



Proves d'accés a la universitat

Convocatòria 2016

Geografia

Sèrie 1

Opció d'examen

(Marqueu el quadre de l'opció triada)

OPCIÓ A



OPCIÓ B



Qualificació		
Exercici 1	1	
	2	
	3	
	4	
Exercici 2	1	
	2	
	3	
	4	
Suma de notes parcials		
Qualificació final		

Etiqueta identificadora de l'alumne/a

Etiqueta de qualificació

Ubicació del tribunal

Número del tribunal

Escolliu UNA de les dues opcions (A o B).

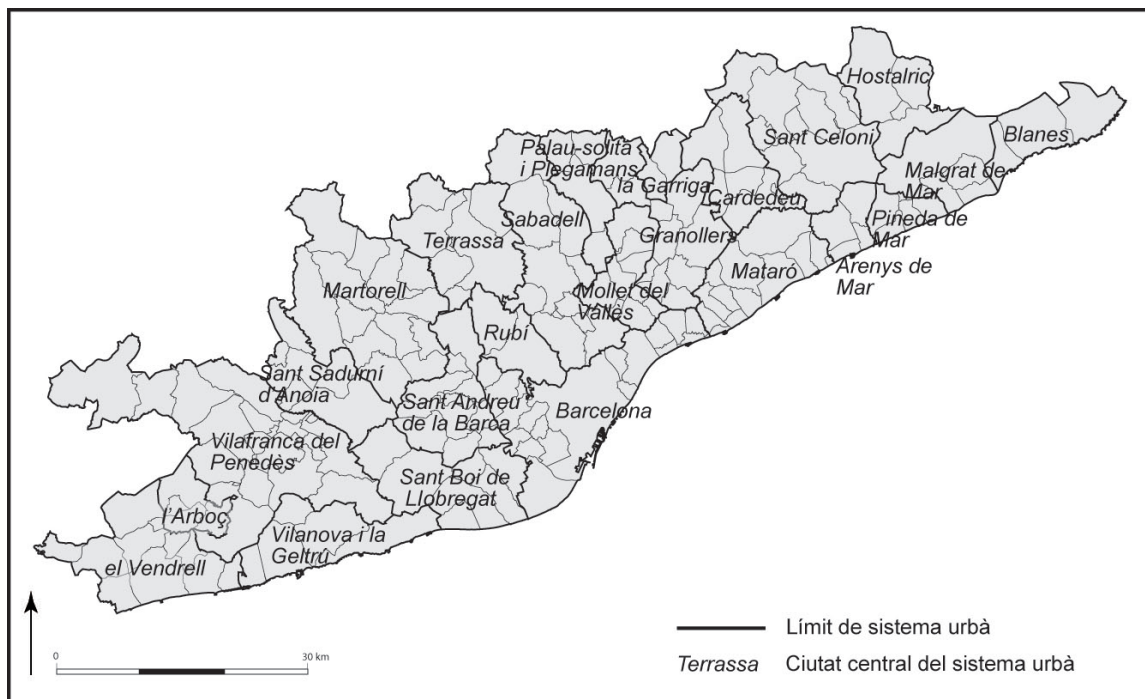
OPCIÓ A

Exercici 1

[5 punts en total]

Observeu el mapa següent i responeu a les qüestions plantejades.

Sistemes urbans en el sistema metropolità de Barcelona (2012)



FONT: J. ROCA, M. MOIX i B. ARELLANO. «El sistema urbano en España». *Scripta Nova* [en línia] [Barcelona: Universitat de Barcelona], vol. XVI, núm. 396 (2012).

1. Descriuiu la informació representada en el mapa i indiqueu quines divisions administratives hi són visibles.

[1 punt]

2. Definiu els termes *densitat de població* i *àrea metropolitana*.

[1 punt]

densitat de població

àrea metropolitana

3. Descriviu les grans regions urbanes tenint en compte els aspectes següents:

- Quins són els trets característics de les grans regions urbanes?
- En què consisteixen l'especialització i la dependència que es genera entre els nuclis urbans que formen aquestes regions?
- Quines dues àrees es poden diferenciar dins de la regió metropolitana de Barcelona?

[1,5 punts]

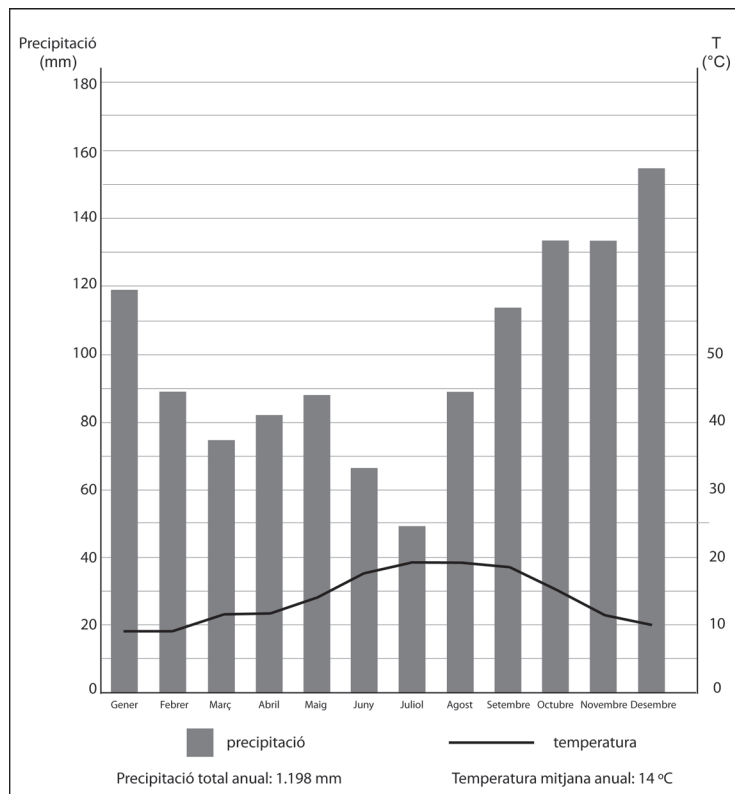
4. Expliqueu les característiques de la xarxa urbana espanyola tenint en compte els aspectes següents:
- Quines àrees metropolitanes encapçalen el primer nivell de la jerarquia urbana espanyola?
 - Quina és la zona d'Espanya on es troba el sistema o eix urbà peninsular amb un nombre més gran d'habitants i de ciutats, i també amb una densitat de població més alta?
 - Quines són les principals funcions urbanes que es desenvolupen a les ciutats?
- [1,5 punts]

Exercici 2

[5 punts en total]

Observeu el gràfic següent i responeu a les qüestions plantejades.

Climograma de Santander (66 m)



FONT: Elaboració pròpia a partir de les dades de l'Agència Estatal de Meteorologia.

1. Descriviu la informació representada en el gràfic.

[1 punt]

2. Definiu els termes *precipitació* i *amplitud tèrmica*.
[1 punt]

precipitació

amplitud tèrmica

3. Observeu el gràfic i exposeu quines són les característiques que defineixen el clima temperat oceànic (o atlàntic). Indiqueu també el nom de tres capitals de província que tinguin aquest clima.

[1,5 punts]

4. Quines àrees de Catalunya estan sota la influència del clima temperat oceànic (o atlàntic)? Expliqueu les característiques del paisatge vegetal d'aquestes àrees, i els tipus de conreus i altres activitats agropecuàries que hi tenen lloc.

[1,5 punts]

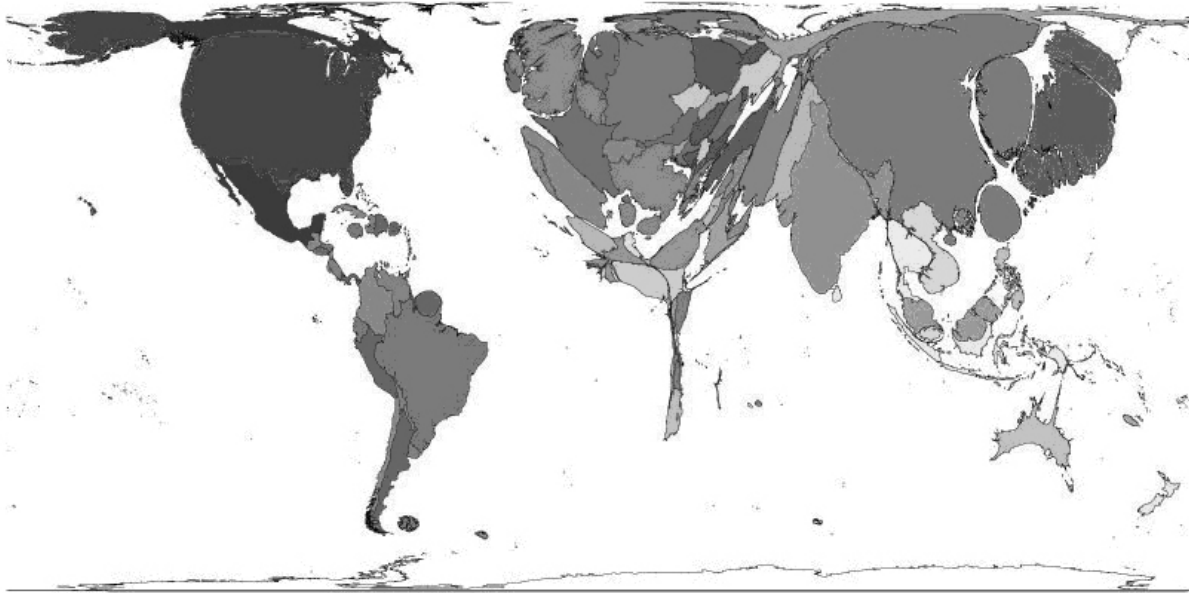
OPCIÓ B

Exercici 1

[5 punts en total]

Observeu el mapa següent i responeu a les qüestions plantejades.

Nombre d'usuaris d'Internet (2007)



FONT: *Worldmapper* [en línia].

NOTA: Els tons de gris només serveixen per a diferenciar els països.

1. Descriviu la informació representada en el mapa.
[1 punt]

2. Definiu els termes *globalització econòmica* i *països BRIC*.

[1 punt]

globalització econòmica

països BRIC

3. Expliqueu les característiques de la societat postindustrial tenint en compte els aspectes següents:

— Es poden considerar sinònims els termes *país industrialitzat* i *país desenvolupat*?
Justifiqueu la resposta.

— Quina és la funció de les noves tecnologies en la societat postindustrial?

— Quins són els objectius dels processos de deslocalització de la producció industrial?

[1,5 punts]

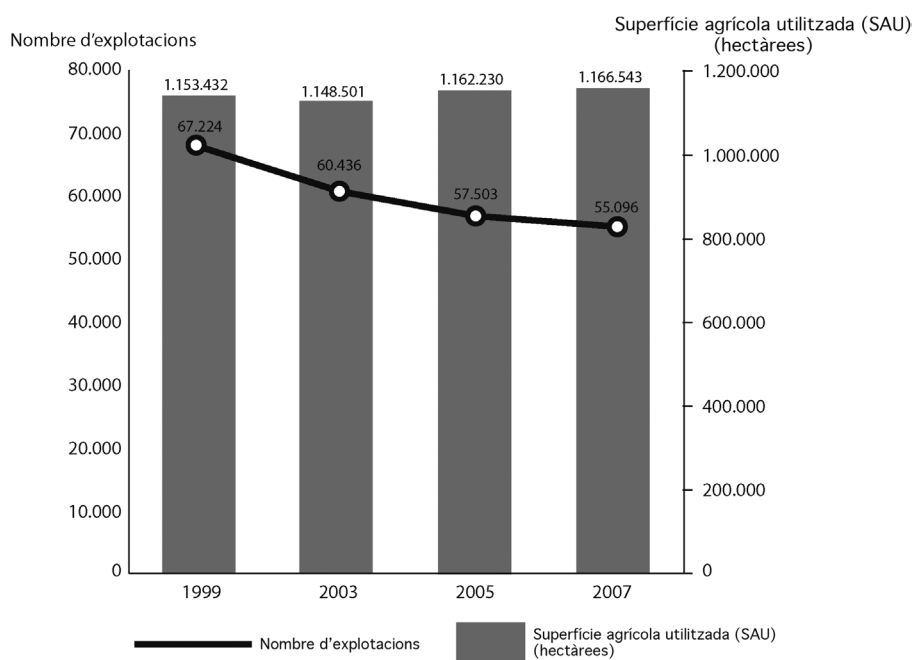
4. Exposeu les principals conseqüències mediambientals, polítiques i culturals del procés de globalització.
[1,5 punts]

Exercici 2

[5 punts en total]

Observeu el gràfic següent i responeu a les qüestions plantejades.

*Nombre d'explotacions agràries
i superfície agrícola utilitzada (SAU) a Catalunya (1999-2007)*



FONT: INSTITUT D'ESTADÍSTICA DE CATALUNYA. *Dossiers Idescat*, núm. 2 (juny 2009).

1. Descriviu la informació representada en el gràfic.

[1 punt]

2. Definiu els termes *població agrària* i *parceria*.
[1 punt]

població agrària

parceria

3. Responen a les qüestions següents relacionades amb les dades representades en el gràfic:

[1,5 punts]

a) Quines són les causes del descens del nombre d'explotacions agràries?

b) Per què la superfície agrícola utilitzada (SAU) ha augmentat? Quines conseqüències comporta aquest augment de superfície?

4. Exposeu les característiques del sector agrari a Catalunya tenint en compte els aspectes següents:
- Com participa el sector agrari en l'economia catalana?
 - Quin és el règim de tinença de la terra i quines són les dimensions de les explotacions?
 - Què són els contractes d'integració ramadera?

[1,5 punts]


Etiqueta del corrector/a



--	--

--	--

Etiqueta identificadora de l'alumne/a



Institut
d'Estudis
Catalans